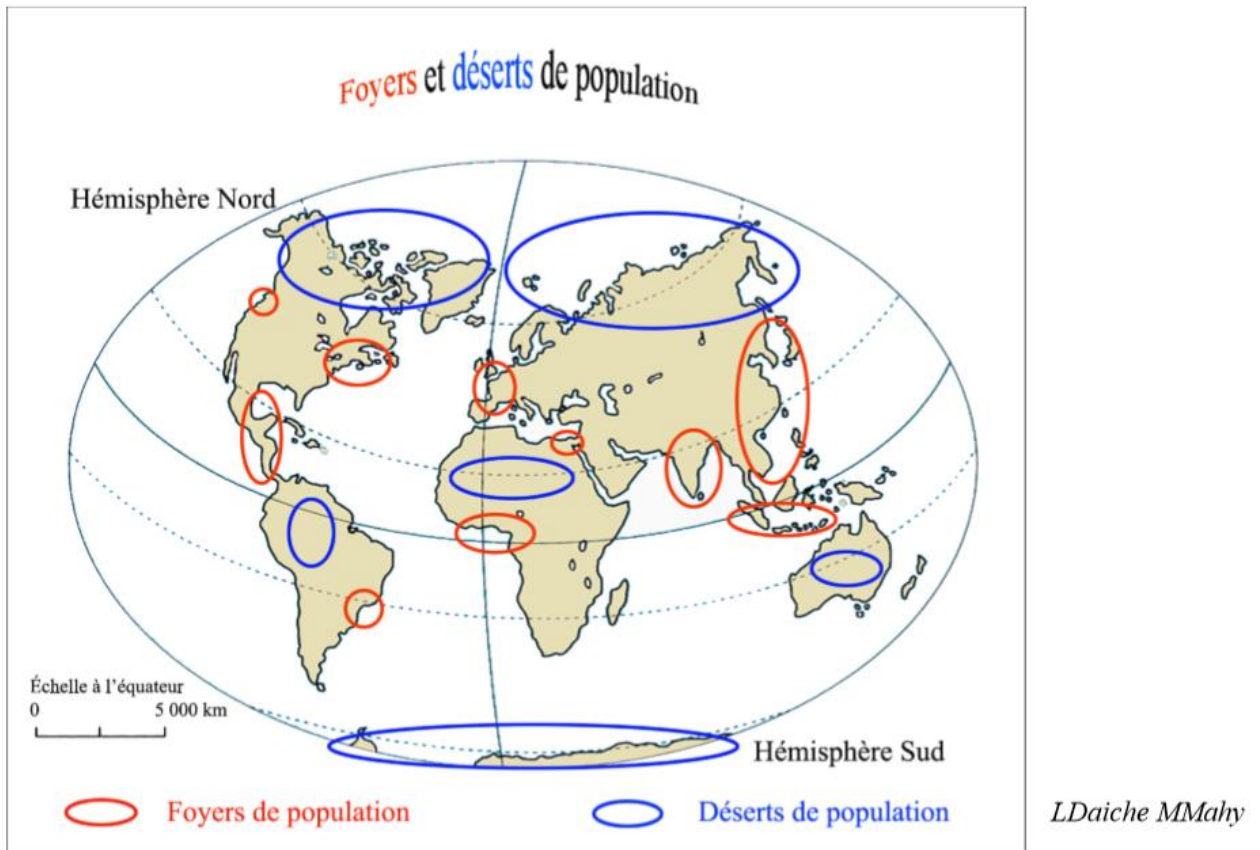


## Géographie : exercices de révision

### 1. Localisation sur un planisphère



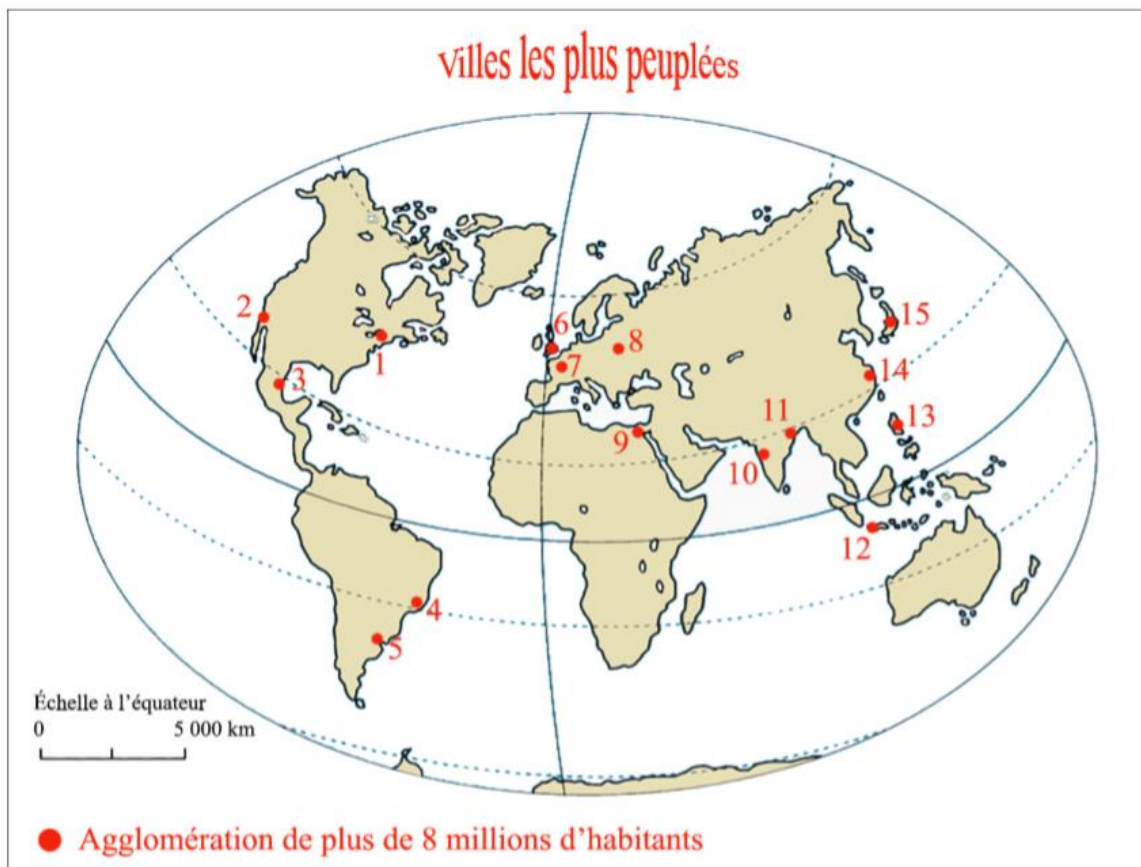
© Enseignement à distance - Ministère de la Communauté française de Belgique.

a. Que représentent les cercles rouges ? Explique

.....  
.....  
.....

b. Que représentent les cercles bleus ? Explique

.....  
.....  
.....

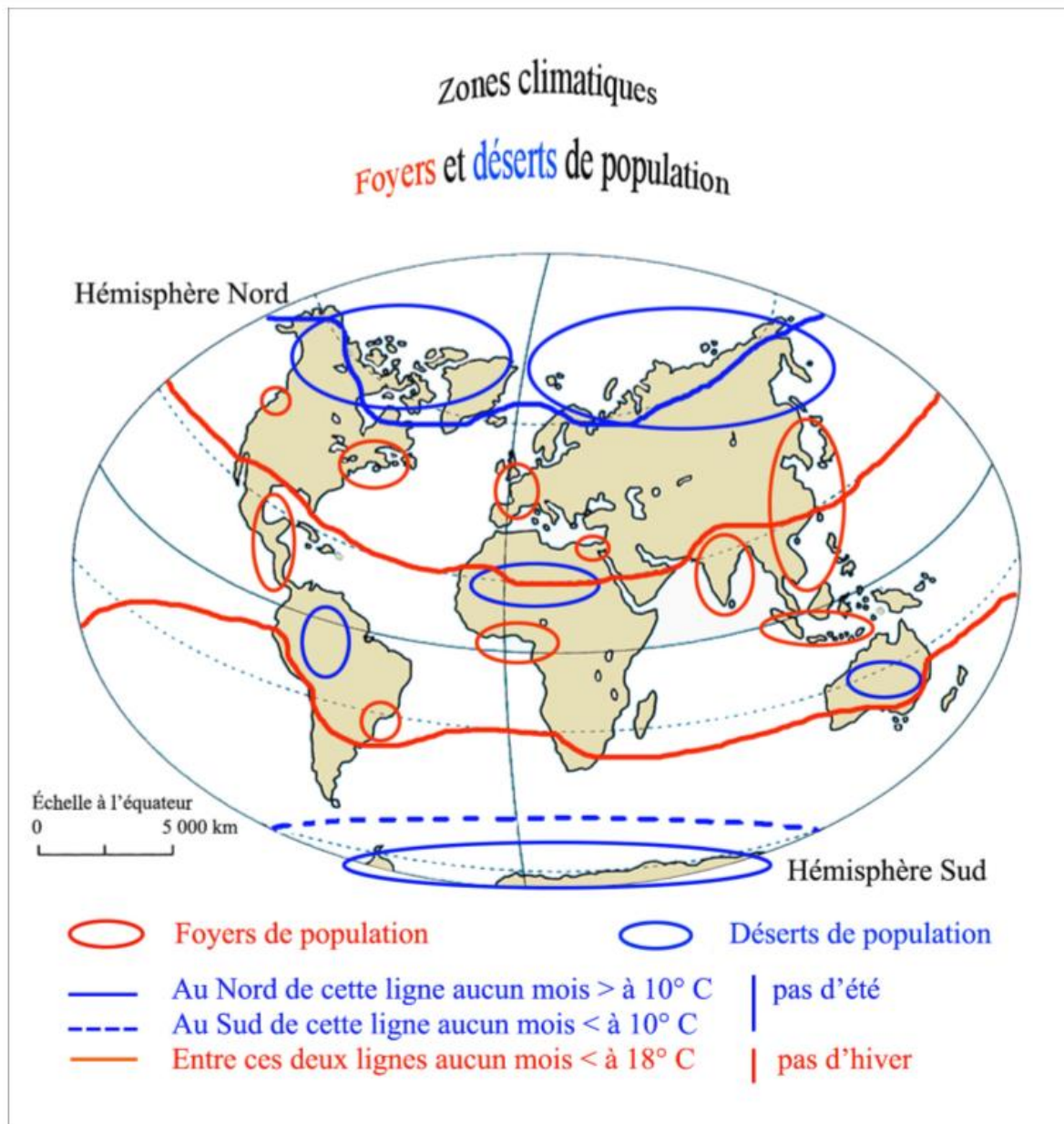


LDaiche MMahy

c. Indique dans le tableau suivant quelle ville correspond aux chiffres indiqués sur le planisphère ci-dessus.

	Villes	Foyers de population	Hémisphère N./S.	Continent	Pays
1	<b>New York</b>	Nord-Est américain	Hémisphère N.	Amérique du Nord	États-Unis
2					
3					
4					
5					
6					
7					
8					
9					
10					
11					
12					
13					
14					
15					

2. Facteurs qui influencent la présence ou non de foyers de population : Relation entre les foyers et déserts de population et les zones climatiques



a. Répondez aux questions en cochant la proposition correcte.

1. Les foyers de population se localisent dans les zones :

- a. intertropicales et tempérées      b. intertropicales et polaires      c. intertropicales

2. Les déserts humains se localisent principalement dans les zones :

- a. tempérées et polaires      b. tropicales et polaires      c. tempérées Nord et Sud

### 3. Recherche sur internet

a. À l'aide d'internet, recherchez à quoi correspondent ces déserts humains et complétez les phrases ci-dessous.

Pour l'Afrique, le désert humain correspond au .....

Pour l'Amérique du Sud, le désert humain correspond à .....

Pour l'Océanie, le désert humain correspond au .....  
et au .....

### 4. Observation de photos

a. **Observez attentivement les photos, répondez aux questions en page suivante.**

Guyane française. Octobre 2004.  
*L. Ancel.*

Namibie. Août 2004.  
*G. Sabatier*

Photo 1

Photo 2

Photo 3

Photo 4

*G. Sabatier*

Vue aérienne des Andes entre Sucre et la Paz. Bolivie. Juillet 2002.

*Ph. Theys, responsable QHSE (Qyualité, Hygiène, Sécurité et Environnement).*

Expédition en Antarctique.  
Décembre 1998.

*LDaiche MMahy*

**a. En observant les quatre photos et en tenant compte du moment de la journée où elles ont été prises, complétez le tableau suivant en y indiquant une croix (X) lorsque la photo possède la ou les caractéristique(s) citée(s).**

	Photo 1	Photo 2	Photo 3	Photo 4
Absence ou rareté de la végétation				
Végétation abondante				
Sécheresse				
Chaleur				
Froid intense				
Zone intertropicale				
Zone tempérée				
Zone polaire				
Foyers de population				
Désert humain				

**b. En tenant compte des informations du tableau ci-dessous, répondez aux questions suivantes.**

Quelles sont les conditions naturelles qui limitent et/ou empêchent l'installation de l'homme ?

.....  
 .....  
 .....

Dans quelles zones climatiques trouve-t-on les déserts humains ?

.....

**5. Atouts et contraintes d'éléments du milieu naturel**

**a. Répondez aux questions en barrant (barrant) la proposition incorrecte.**

1. L'altitude est / une contrainte / une contrainte ou un atout.
2. Les reliefs de très hautes altitudes, comme la cordillère des Andes, sont / une contrainte maîtrisée / un atout.
3. Avec l'altitude, la température / augmente / diminue.
4. Avec l'altitude, la quantité disponible d'oxygène dans l'air / augmente / diminue.
5. L'homme s'installe plus facilement lorsque l'altitude de l'endroit est / élevée / basse.
6. Lorsque l'altitude en montagne diminue, / l'homme occupe davantage l'espace / l'homme occupe très peu l'espace.

7. Dans les zones tropicales humides, l'altitude élevée peut offrir un climat / plus chaud / moins chaud / que dans les régions voisines plus basses.
8. Les foyers de population sont localisés à des altitudes / supérieures à 1 000 m / comprises entre 200 et 1 000 mètres.
9. Une zone de haute altitude est / synonyme de désert humain / n'est pas toujours synonyme de désert humain.
10. L'altitude à laquelle se trouve le foyer de population du Nord-Ouest européen est / la même que celle / différente de celle / du désert humain du centre de l'Australie.
11. Le désert humain de l'Australie s'explique par / l'altitude de l'endroit / une autre contrainte que l'altitude.
12. Les foyers de population sont situés / près des côtes / loin des côtes.
13. Les Népalais cultivent jusqu'à / 4 500 m / 6 000 m.
14. Les Andins pratiquent une agriculture en / plaines / terrasses.
15. Le travail des agriculteurs andins ou népalais est / aisé / difficile.